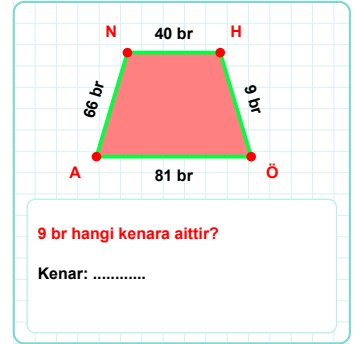
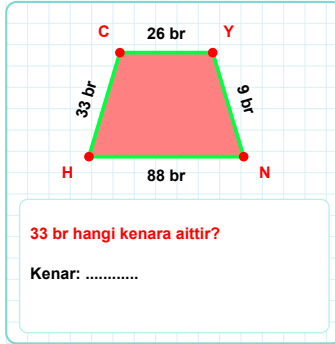
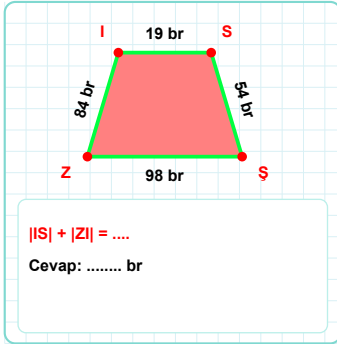
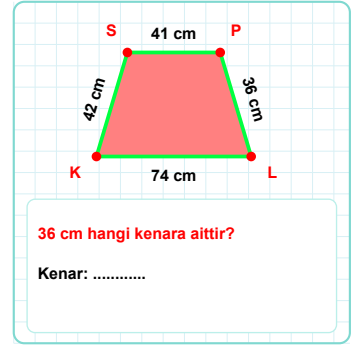
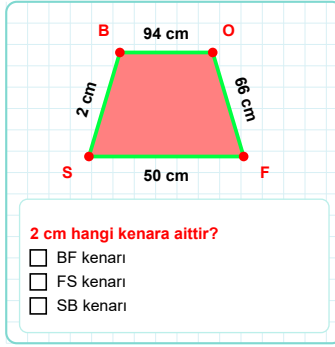
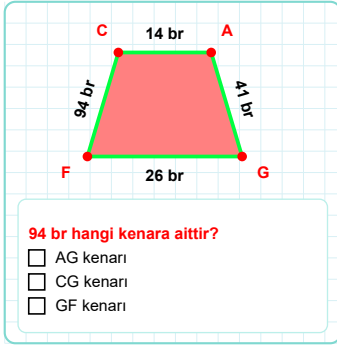
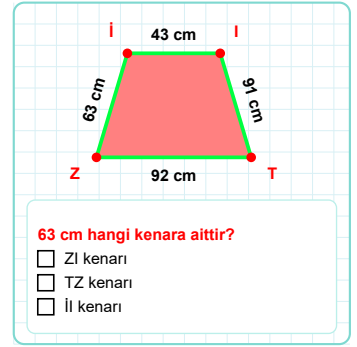
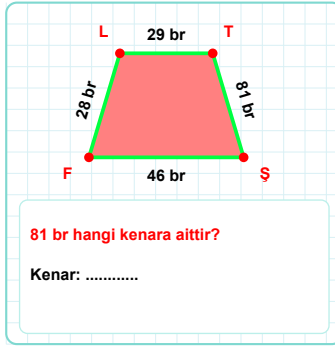
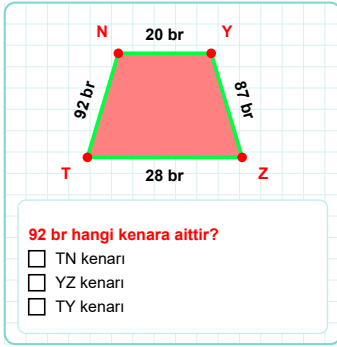
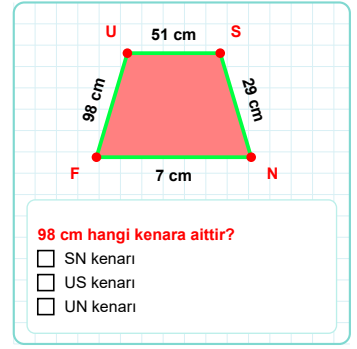
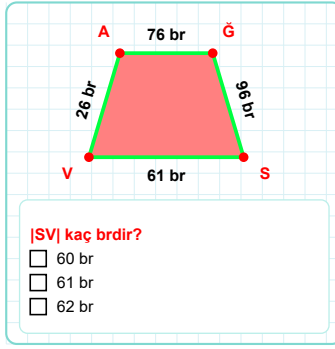
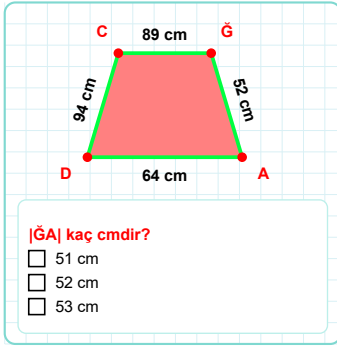


SORU: Aşağıdaki geometrik şekillerle ilgili soruları cevaplayınız.



SORU: Aşağıdaki geometrik şekillerle ilgili soruları cevaplayınız.

23 br hangi kenara aittir?
Kenar:

$|NY| + |YJ| = \dots$
Cevap: br

$|KC|$ kaç brdir?
☐ 82 br
☐ 83 br
☐ 84 br

$|RA|$ kaç cmdir?
☐ 70 cm
☐ 71 cm
☐ 72 cm

85 cm hangi kenara aittir?
☐ ÖŞ kenarı
☐ EÖ kenarı
☐ ÇŞ kenarı

$|ZD|$ kaç cmdir?
☐ 81 cm
☐ 82 cm
☐ 83 cm

55 cm hangi kenara aittir?
☐ HP kenarı
☐ PŞ kenarı
☐ PÇ kenarı

10 cm hangi kenara aittir?
☐ HM kenarı
☐ MÜ kenarı
☐ HÖ kenarı

$|IB| + |BE| = \dots$
Cevap: br

83 cm hangi kenara aittir?
☐ NÇ kenarı
☐ NB kenarı
☐ BÇ kenarı

$|MK|$ kaç cmdir?
☐ 9 cm
☐ 10 cm
☐ 11 cm

97 br hangi kenara aittir?
Kenar:

SÜREÇ ODAKLI DEĞERLENDİRME ÖLÇEĞİ

Doğru Sayısı: / 24

Öğretmen ilgili kutucuğu işaretler.

Geliştirilmeli (0-8)

İyi (9-14)

Çok İyi (15-20)

Mükemmel (21-24)

☐☐☐☐

Hazırlayan:

Bu bölüme sınıfınızın ilgili kazanıma yönelik genel durumuna ilişkin gözlem ve izlenimlerinizi, öğrencilerinizin bu kazanımla ilgili öğrenme eksikliklerini ve bu eksikliklerin giderilmesi amacıyla yaptığınız/yapmayı planladığınız faaliyetleri not edebilirsiniz.

No	Adı - Soyadı	Toplam Puan	Değerlendirme
1			
2			
3			
4			
5			
6			
7			
8			
9			
10			
11			
12			
13			
14			
15			
16			
17			
18			
19			
20			
21			
22			
23			
24			
25			
26			
27			
28			
29			
30			
31			
32			
33			
34			
35			

Hazırlayan: