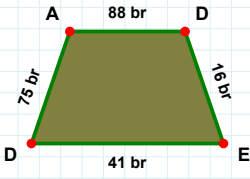
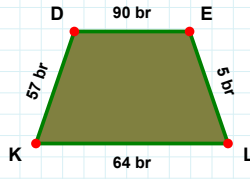


**SORU:** Aşağıdaki şekillerde istenen kenarın kaç birim veya santimetre olduğunu bulunuz.



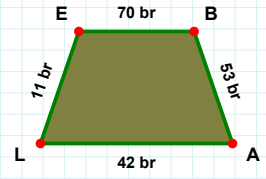
|KD| kaç brdir?

- ☐ 62 br  
☐ 54 br  
☐ 57 br



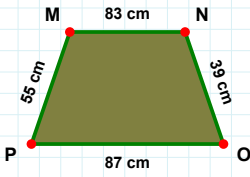
|DA| kaç brdir?

- ☐ 78 br  
☐ 74 br  
☐ 75 br



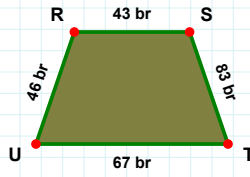
|LE| kaç brdir?

- ☐ 11 br  
☐ 1 br  
☐ 8 br



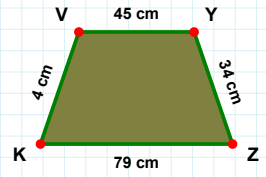
|NO| kaç cmdir?

- ☐ 41 cm  
☐ 39 cm  
☐ 29 cm



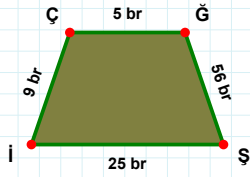
|VY| kaç cmdir?

- ☐ 44 cm  
☐ 45 cm  
☐ 43 cm



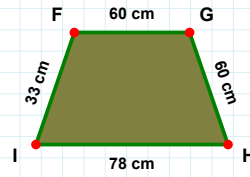
|TU| kaç brdir?

- ☐ 67 br  
☐ 70 br  
☐ 57 br



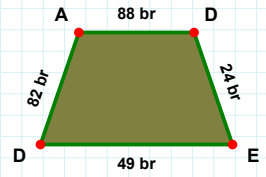
|İÇ| kaç brdir?

- ☐ 9 br  
☐ 19 br  
☐ 11 br



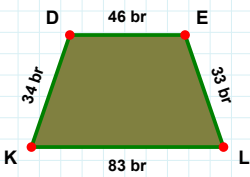
|DE| kaç brdir?

- ☐ 24 br  
☐ 21 br  
☐ 23 br



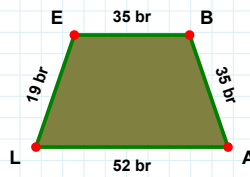
|GH| kaç cmdir?

- ☐ 50 cm  
☐ 57 cm  
☐ 60 cm



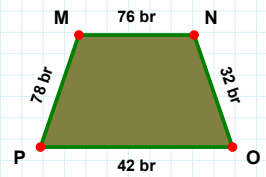
|NO| kaç brdir?

- ☐ 42 br  
☐ 32 br  
☐ 31 br



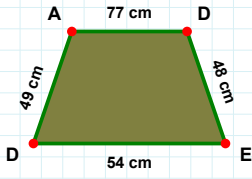
|AL| kaç brdir?

- ☐ 51 br  
☐ 52 br  
☐ 47 br



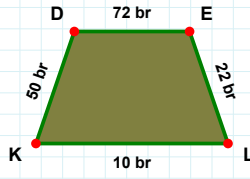
|LK| kaç brdir?

- ☐ 86 br  
☐ 81 br  
☐ 83 br

**SORU:** Aşağıdaki şekillerde istenen kenarın kaç birim veya santimetre olduğunu bulunuz.

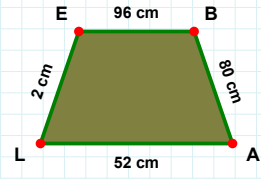
|KD| kaç brdir?

- ☐ 45 br  
☐ 50 br  
☐ 51 br



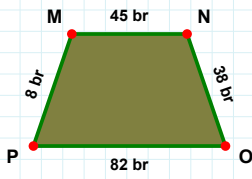
|AD| kaç cmdir?

- ☐ 72 cm  
☐ 77 cm  
☐ 76 cm



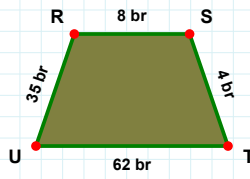
|EB| kaç cmdir?

- ☐ 96 cm  
☐ 94 cm  
☐ 98 cm



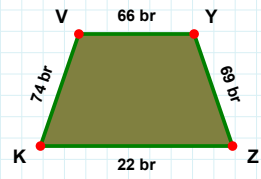
|ZK| kaç brdir?

- ☐ 27 br  
☐ 22 br  
☐ 32 br



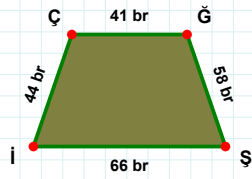
|OP| kaç brdir?

- ☐ 82 br  
☐ 83 br  
☐ 92 br



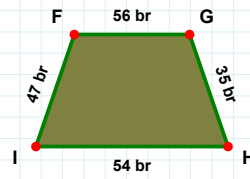
|TU| kaç brdir?

- ☐ 63 br  
☐ 67 br  
☐ 62 br



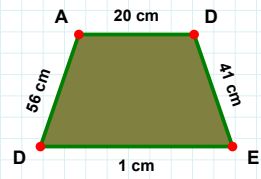
|İŞ| kaç brdir?

- ☐ 57 br  
☐ 59 br  
☐ 58 br



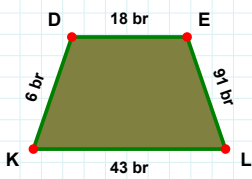
|DA| kaç cmdir?

- ☐ 56 cm  
☐ 55 cm  
☐ 57 cm



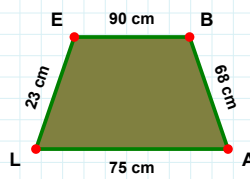
|GH| kaç brdir?

- ☐ 33 br  
☐ 35 br  
☐ 36 br



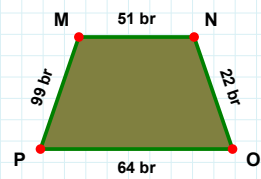
|KD| kaç brdir?

- ☐ 6 br  
☐ 4 br  
☐ 1 br



|LE| kaç cmdir?

- ☐ 20 cm  
☐ 23 cm  
☐ 26 cm



|NO| kaç brdir?

- ☐ 22 br  
☐ 27 br  
☐ 32 br

## SÜREÇ ODAKLI DEĞERLENDİRME ÖLÇEĞİ

Doğru Sayısı: ..... / 24

Öğretmen ilgili kutucuğu işaretler.

Geliştirilmeli (0-8)

İyi (9-14)

Çok İyi (15-20)

Mükemmel (21-24)

☐☐☐☐

Hazırlayan: .....

Bu bölüme sınıfınızın ilgili kazanıma yönelik genel durumuna ilişkin gözlem ve izlenimlerinizi, öğrencilerinizin bu kazanımla ilgili öğrenme eksikliklerini ve bu eksikliklerin giderilmesi amacıyla yaptığınız/yapmayı planladığınız faaliyetleri not edebilirsiniz.

No	Adı - Soyadı	Toplam Puan	Değerlendirme
1			
2			
3			
4			
5			
6			
7			
8			
9			
10			
11			
12			
13			
14			
15			
16			
17			
18			
19			
20			
21			
22			
23			
24			
25			
26			
27			
28			
29			
30			
31			
32			
33			
34			
35			

Hazırlayan: .....