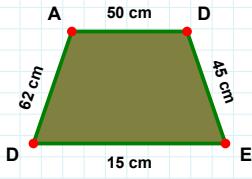
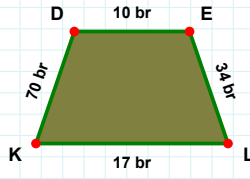


SORU: Aşağıdaki şekillerde istenen kenarın kaç birim veya santimetre olduğunu bulunuz.



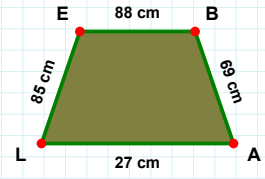
|EL| kaç brdir?

- ☐ 34 br
☐ 31 br
☐ 24 br



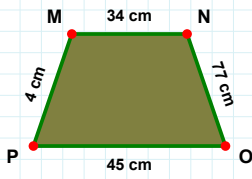
|EB| kaç cmdir?

- ☐ 87 cm
☐ 93 cm
☐ 88 cm



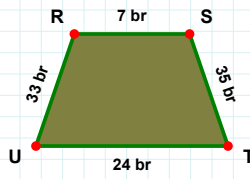
|AD| kaç cmdir?

- ☐ 53 cm
☐ 50 cm
☐ 47 cm



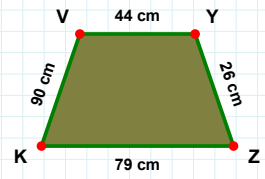
|TU| kaç brdir?

- ☐ 21 br
☐ 24 br
☐ 25 br



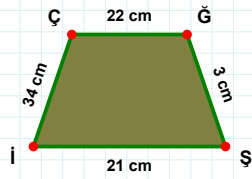
|MN| kaç cmdir?

- ☐ 34 cm
☐ 31 cm
☐ 37 cm



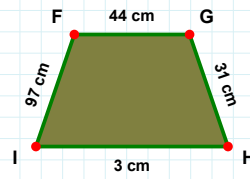
|KV| kaç cmdir?

- ☐ 90 cm
☐ 89 cm
☐ 87 cm



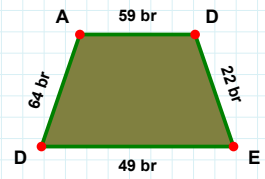
|GH| kaç cmdir?

- ☐ 31 cm
☐ 29 cm
☐ 32 cm



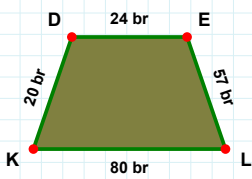
|GŞ| kaç cmdir?

- ☐ 3 cm
☐ 8 cm
☐ 2 cm



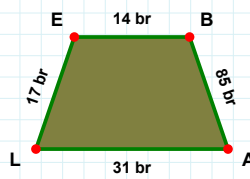
|DA| kaç brdir?

- ☐ 64 br
☐ 62 br
☐ 54 br



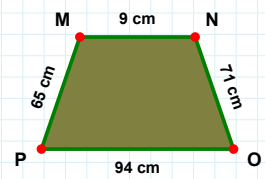
|LK| kaç brdir?

- ☐ 80 br
☐ 70 br
☐ 82 br



|BA| kaç brdir?

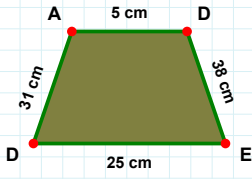
- ☐ 90 br
☐ 85 br
☐ 88 br



|OP| kaç cmdir?

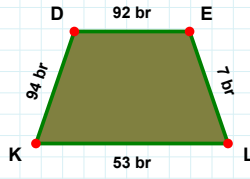
- ☐ 94 cm
☐ 84 cm
☐ 89 cm

SORU: Aşağıdaki şekillerde istenen kenarın kaç birim veya santimetre olduğunu bulunuz.



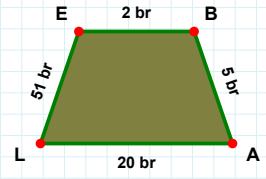
|EB| kaç brdir?

- ☐ 1 br
☐ 2 br
☐ 12 br



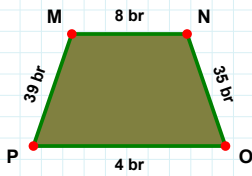
|DE| kaç brdir?

- ☐ 94 br
☐ 92 br
☐ 87 br



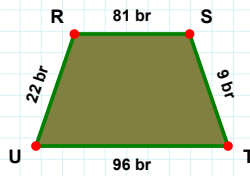
|DE| kaç cmdir?

- ☐ 48 cm
☐ 38 cm
☐ 43 cm



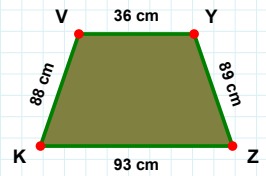
|OP| kaç brdir?

- ☐ 14 br
☐ 4 br
☐ 1 br



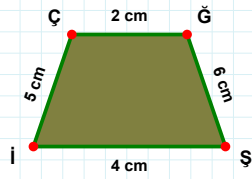
|ST| kaç brdir?

- ☐ 6 br
☐ 19 br
☐ 9 br



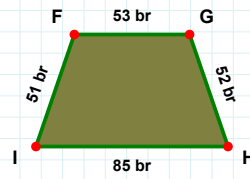
|KV| kaç cmdir?

- ☐ 93 cm
☐ 88 cm
☐ 91 cm



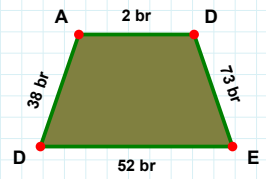
|DA| kaç brdir?

- ☐ 43 br
☐ 38 br
☐ 48 br



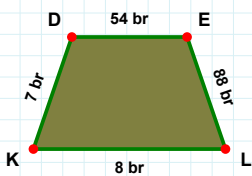
|IF| kaç brdir?

- ☐ 56 br
☐ 41 br
☐ 51 br



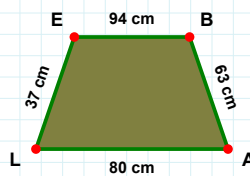
|İŞ| kaç cmdir?

- ☐ 6 cm
☐ 7 cm
☐ 5 cm



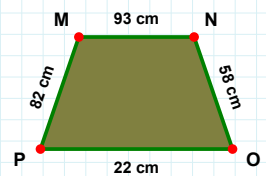
|LE| kaç cmdir?

- ☐ 27 cm
☐ 37 cm
☐ 34 cm



|DE| kaç brdir?

- ☐ 44 br
☐ 54 br
☐ 51 br



|NO| kaç cmdir?

- ☐ 61 cm
☐ 57 cm
☐ 58 cm

SÜREÇ ODAKLI DEĞERLENDİRME ÖLÇEĞİ

Doğru Sayısı: / 24

Öğretmen ilgili kutucuğu işaretler.

Geliştirilmeli (0-8)

İyi (9-14)

Çok İyi (15-20)

Mükemmel (21-24)

☐
☐
☐
☐

Hazırlayan:

Bu bölüme sınıfınızın ilgili kazanıma yönelik genel durumuna ilişkin gözlem ve izlenimlerinizi, öğrencilerinizin bu kazanımla ilgili öğrenme eksikliklerini ve bu eksikliklerin giderilmesi amacıyla yaptığınız/yapmayı planladığınız faaliyetleri not edebilirsiniz.

No	Adı - Soyadı	Toplam Puan	Değerlendirme
1			
2			
3			
4			
5			
6			
7			
8			
9			
10			
11			
12			
13			
14			
15			
16			
17			
18			
19			
20			
21			
22			
23			
24			
25			
26			
27			
28			
29			
30			
31			
32			
33			
34			
35			

Hazırlayan: