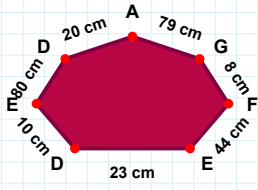
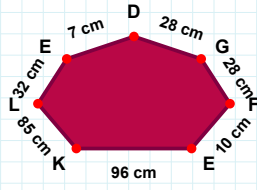


**SORU:** Aşağıdaki şekillerde istenen kenarın kaç birim veya santimetre olduğunu bulunuz.

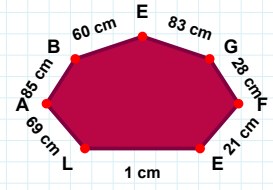
|LK| kaç cmdir?

- ☐ 85 cm  
☐ 75 cm  
☐ 88 cm



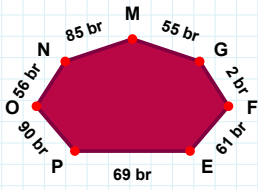
|AL| kaç cmdir?

- ☐ 69 cm  
☐ 72 cm  
☐ 67 cm



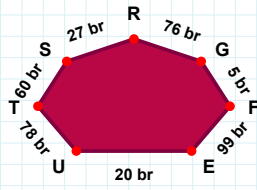
|AD| kaç cmdir?

- ☐ 21 cm  
☐ 15 cm  
☐ 20 cm



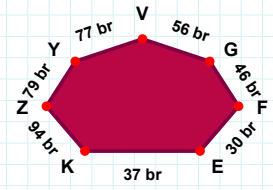
|TU| kaç brdir?

- ☐ 88 br  
☐ 75 br  
☐ 78 br



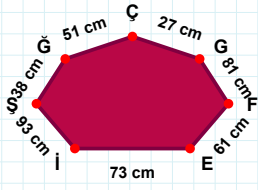
|OP| kaç brdir?

- ☐ 90 br  
☐ 95 br  
☐ 93 br



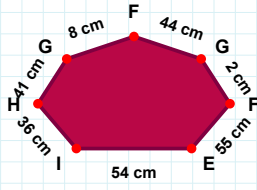
|YZ| kaç brdir?

- ☐ 69 br  
☐ 80 br  
☐ 79 br



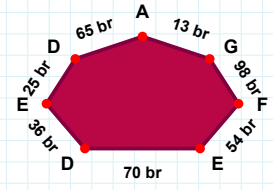
|GH| kaç cmdir?

- ☐ 41 cm  
☐ 44 cm  
☐ 42 cm



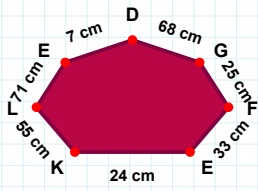
|FG| kaç cmdir?

- ☐ 81 cm  
☐ 80 cm  
☐ 71 cm



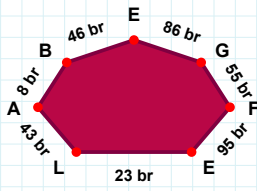
|EF| kaç brdir?

- ☐ 55 br  
☐ 54 br  
☐ 64 br



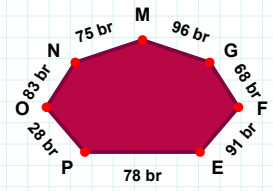
|EF| kaç cmdir?

- ☐ 43 cm  
☐ 35 cm  
☐ 33 cm



|OP| kaç brdir?

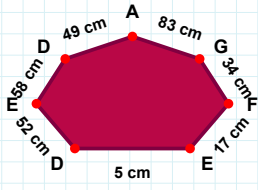
- ☐ 28 br  
☐ 23 br  
☐ 27 br



|FG| kaç brdir?

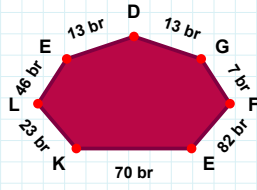
- ☐ 53 br  
☐ 65 br  
☐ 55 br

SORU: Aşağıdaki şekillerde istenen kenarın kaç birim veya santimetre olduğunu bulunuz.



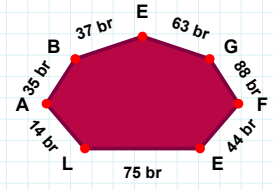
|DE| kaç cm'dir?

- ☐ 6 cm  
☐ 7 cm  
☐ 5 cm



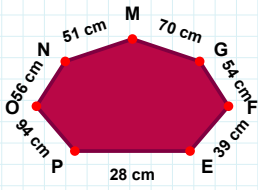
|KE| kaç br'dir?

- ☐ 68 br  
☐ 70 br  
☐ 73 br



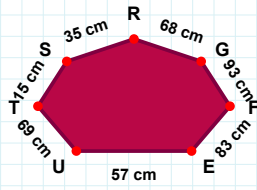
|AL| kaç br'dir?

- ☐ 14 br  
☐ 4 br  
☐ 13 br



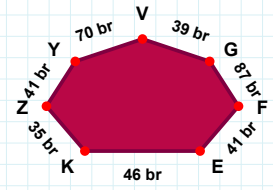
|EF| kaç cm'dir?

- ☐ 39 cm  
☐ 40 cm  
☐ 37 cm



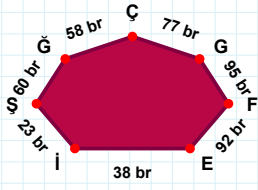
|FG| kaç cm'dir?

- ☐ 94 cm  
☐ 95 cm  
☐ 93 cm



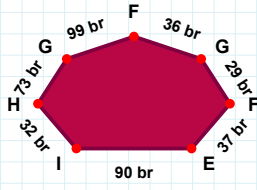
|GV| kaç br'dir?

- ☐ 39 br  
☐ 34 br  
☐ 36 br



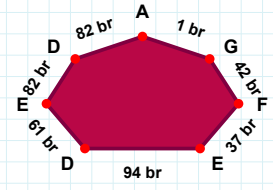
|FG| kaç br'dir?

- ☐ 95 br  
☐ 90 br  
☐ 94 br



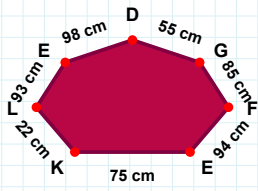
|EF| kaç br'dir?

- ☐ 39 br  
☐ 35 br  
☐ 37 br



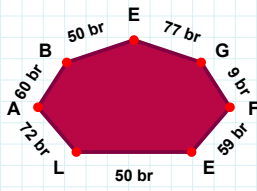
|EF| kaç br'dir?

- ☐ 36 br  
☐ 37 br  
☐ 32 br



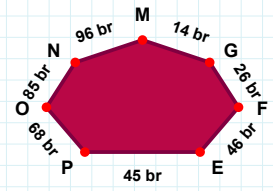
|FG| kaç cm'dir?

- ☐ 84 cm  
☐ 83 cm  
☐ 85 cm



|MN| kaç br'dir?

- ☐ 93 br  
☐ 96 br  
☐ 98 br



|BA| kaç br'dir?

- ☐ 59 br  
☐ 60 br  
☐ 55 br

## SÜREÇ ODAKLI DEĞERLENDİRME ÖLÇEĞİ

Doğru Sayısı: ..... / 24

Öğretmen ilgili kutucuğu işaretler.

Geliştirilmeli (0-8)

İyi (9-14)

Çok İyi (15-20)

Mükemmel (21-24)

☐
☐
☐
☐

Hazırlayan: .....

Bu bölüme sınıfınızın ilgili kazanıma yönelik genel durumuna ilişkin gözlem ve izlenimlerinizi, öğrencilerinizin bu kazanımla ilgili öğrenme eksikliklerini ve bu eksikliklerin giderilmesi amacıyla yaptığınız/yapmayı planladığınız faaliyetleri not edebilirsiniz.

No	Adı - Soyadı	Toplam Puan	Değerlendirme
1			
2			
3			
4			
5			
6			
7			
8			
9			
10			
11			
12			
13			
14			
15			
16			
17			
18			
19			
20			
21			
22			
23			
24			
25			
26			
27			
28			
29			
30			
31			
32			
33			
34			
35			

Hazırlayan: .....