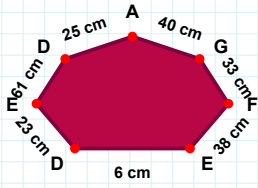
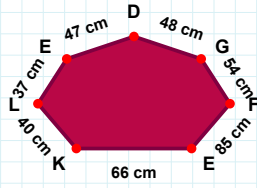


SORU: Aşağıdaki şekillerde istenen kenarın kaç birim veya santimetre olduğunu bulunuz.



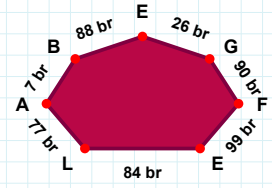
|ED| kaç cmdir?

- ☐ 21 cm  
☐ 26 cm  
☐ 23 cm



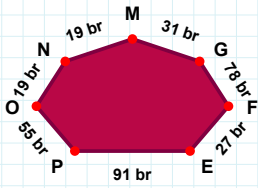
|EF| kaç brdir?

- ☐ 96 br  
☐ 89 br  
☐ 99 br



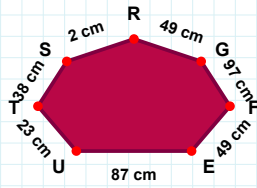
|GD| kaç cmdir?

- ☐ 53 cm  
☐ 48 cm  
☐ 46 cm



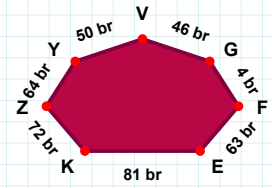
|FG| kaç brdir?

- ☐ 73 br  
☐ 77 br  
☐ 78 br



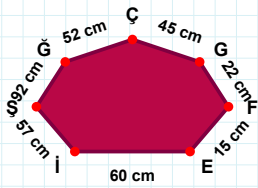
|RS| kaç cmdir?

- ☐ 1 cm  
☐ 2 cm  
☐ 12 cm



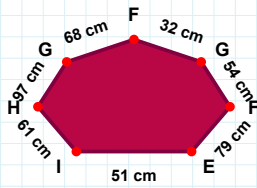
|GV| kaç brdir?

- ☐ 45 br  
☐ 46 br  
☐ 44 br



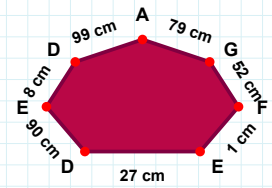
|GŞ| kaç cmdir?

- ☐ 93 cm  
☐ 92 cm  
☐ 90 cm



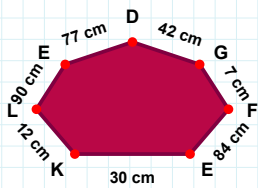
|EF| kaç cmdir?

- ☐ 76 cm  
☐ 79 cm  
☐ 77 cm



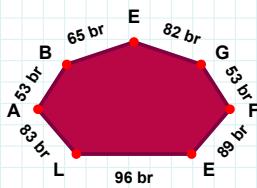
|ED| kaç cmdir?

- ☐ 88 cm  
☐ 90 cm  
☐ 92 cm



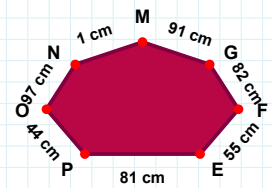
|KE| kaç cmdir?

- ☐ 33 cm  
☐ 30 cm  
☐ 40 cm



|EB| kaç brdir?

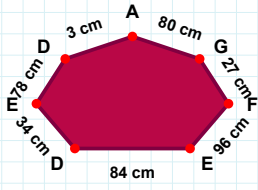
- ☐ 70 br  
☐ 65 br  
☐ 67 br



|OP| kaç cmdir?

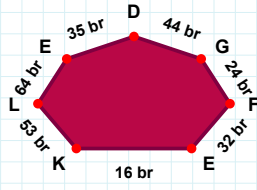
- ☐ 45 cm  
☐ 43 cm  
☐ 44 cm

SORU: Aşağıdaki şekillerde istenen kenarın kaç birim veya santimetre olduğunu bulunuz.



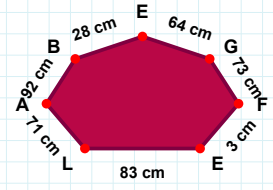
|KE| kaç brdir?

- ☐ 16 br  
☐ 6 br  
☐ 14 br



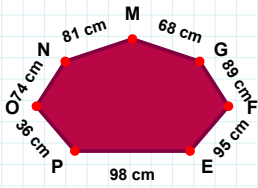
|GA| kaç cmdir?

- ☐ 80 cm  
☐ 70 cm  
☐ 90 cm



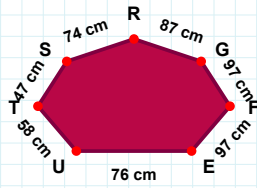
|EB| kaç cmdir?

- ☐ 26 cm  
☐ 27 cm  
☐ 28 cm



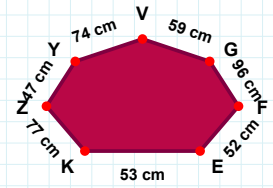
|TU| kaç cmdir?

- ☐ 58 cm  
☐ 55 cm  
☐ 57 cm



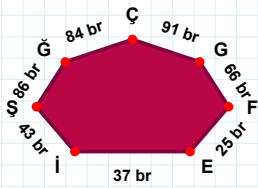
|GV| kaç cmdir?

- ☐ 49 cm  
☐ 59 cm  
☐ 58 cm



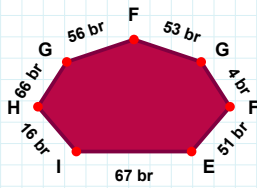
|MN| kaç cmdir?

- ☐ 78 cm  
☐ 84 cm  
☐ 81 cm



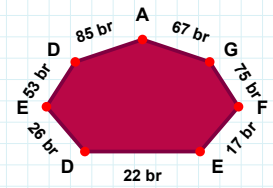
|EF| kaç brdir?

- ☐ 15 br  
☐ 17 br  
☐ 22 br



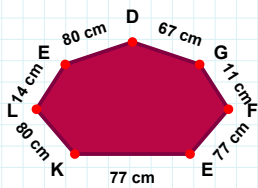
|GF| kaç brdir?

- ☐ 51 br  
☐ 54 br  
☐ 53 br



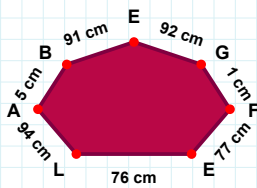
|ÇĞ| kaç brdir?

- ☐ 82 br  
☐ 84 br  
☐ 85 br



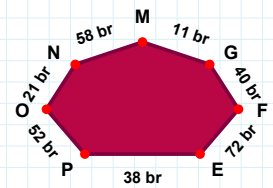
|AL| kaç cmdir?

- ☐ 96 cm  
☐ 94 cm  
☐ 99 cm



|DE| kaç cmdir?

- ☐ 85 cm  
☐ 79 cm  
☐ 80 cm



|NO| kaç brdir?

- ☐ 20 br  
☐ 21 br  
☐ 22 br

## SÜREÇ ODAKLI DEĞERLENDİRME ÖLÇEĞİ

Doğru Sayısı: ..... / 24

Öğretmen ilgili kutucuğu işaretler.

Geliştirilmeli (0-8)

İyi (9-14)

Çok İyi (15-20)

Mükemmel (21-24)

☐
☐
☐
☐

Hazırlayan: .....

Bu bölüme sınıfınızın ilgili kazanıma yönelik genel durumuna ilişkin gözlem ve izlenimlerinizi, öğrencilerinizin bu kazanımla ilgili öğrenme eksikliklerini ve bu eksikliklerin giderilmesi amacıyla yaptığınız/yapmayı planladığınız faaliyetleri not edebilirsiniz.

No	Adı - Soyadı	Toplam Puan	Değerlendirme
1			
2			
3			
4			
5			
6			
7			
8			
9			
10			
11			
12			
13			
14			
15			
16			
17			
18			
19			
20			
21			
22			
23			
24			
25			
26			
27			
28			
29			
30			
31			
32			
33			
34			
35			

Hazırlayan: .....