

**SORU:** Aşağıdaki şekillerde verilen kenarlardan şekle ait olmayanı bulunuz.

Şekle ait olmayan kenar/kenarları işaretleyelim.

☐ İT kenarı  
☐ İG kenarı  
☐ Öİ kenarı

Şekle ait olmayan kenar/kenarları işaretleyelim.

☐ AĞ kenarı  
☐ BK kenarı  
☐ AB kenarı

Şekle ait olmayan kenar/kenarları işaretleyelim.

☐ HJ kenarı  
☐ NO kenarı  
☐ NS kenarı

Şekle ait olmayan kenar/kenarları işaretleyelim.

☐ ON kenarı  
☐ VŞ kenarı  
☐ UŞ kenarı

Şekle ait olmayan kenar/kenarları işaretleyelim.

☐ ĞA kenarı  
☐ AM kenarı  
☐ AD kenarı

Şekle ait olmayan kenar/kenarları işaretleyelim.

☐ ÖZ kenarı  
☐ ÇZ kenarı  
☐ SH kenarı

Şekle ait olmayan kenar/kenarları işaretleyelim.

☐ BÖ kenarı  
☐ TÖ kenarı  
☐ TB kenarı

Şekle ait olmayan kenar/kenarları işaretleyelim.

☐ EU kenarı  
☐ ZY kenarı  
☐ DY kenarı

Şekle ait olmayan kenar/kenarları işaretleyelim.

☐ TI kenarı  
☐ BT kenarı  
☐ BO kenarı

Şekle ait olmayan kenar/kenarları işaretleyelim.

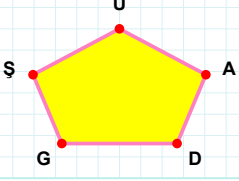
☐ KI kenarı  
☐ AK kenarı  
☐ İH kenarı

Şekle ait olmayan kenar/kenarları işaretleyelim.

☐ FY kenarı  
☐ YP kenarı  
☐ PŞ kenarı

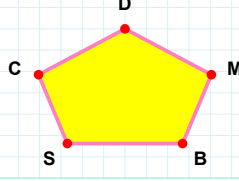
Şekle ait olmayan kenar/kenarları işaretleyelim.

☐ JZ kenarı  
☐ SV kenarı  
☐ ŞJ kenarı

**SORU: Aşağıdaki şekillerde verilen kenarlardan şekle ait olmayanı bulunuz.**


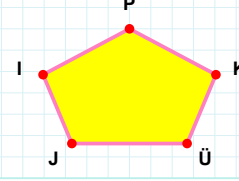
Şekle ait olmayan kenar/kenarları işaretleyelim.

☐ GA kenarı  
☐ UG kenarı  
☐ ŞG kenarı



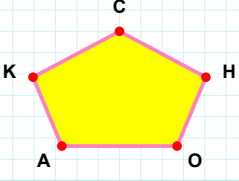
Şekle ait olmayan kenar/kenarları işaretleyelim.

☐ CM kenarı  
☐ BM kenarı  
☐ DB kenarı



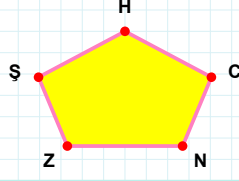
Şekle ait olmayan kenar/kenarları işaretleyelim.

☐ PI kenarı  
☐ PJ kenarı  
☐ KP kenarı



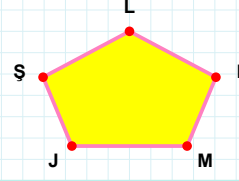
Şekle ait olmayan kenar/kenarları işaretleyelim.

☐ OH kenarı  
☐ AH kenarı  
☐ KA kenarı



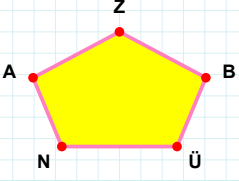
Şekle ait olmayan kenar/kenarları işaretleyelim.

☐ HZ kenarı  
☐ ZC kenarı  
☐ ŞZ kenarı



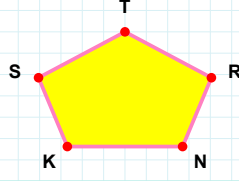
Şekle ait olmayan kenar/kenarları işaretleyelim.

☐ LJ kenarı  
☐ JI kenarı  
☐ ŞJ kenarı



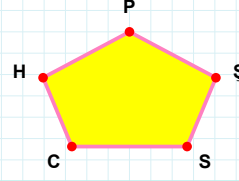
Şekle ait olmayan kenar/kenarları işaretleyelim.

☐ NB kenarı  
☐ ZA kenarı  
☐ ÜB kenarı



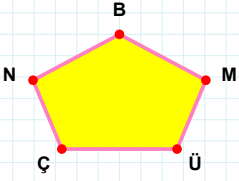
Şekle ait olmayan kenar/kenarları işaretleyelim.

☐ KR kenarı  
☐ TN kenarı  
☐ SR kenarı



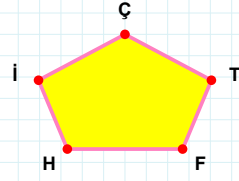
Şekle ait olmayan kenar/kenarları işaretleyelim.

☐ HC kenarı  
☐ PC kenarı  
☐ ŞP kenarı



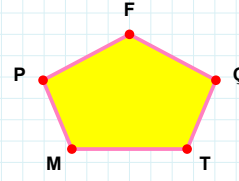
Şekle ait olmayan kenar/kenarları işaretleyelim.

☐ MB kenarı  
☐ BÇ kenarı  
☐ ÇÜ kenarı



Şekle ait olmayan kenar/kenarları işaretleyelim.

☐ İT kenarı  
☐ İH kenarı  
☐ HT kenarı



Şekle ait olmayan kenar/kenarları işaretleyelim.

☐ PÇ kenarı  
☐ MT kenarı  
☐ TÇ kenarı

## SÜREÇ ODAKLI DEĞERLENDİRME ÖLÇEĞİ

Doğru Sayısı: ..... / 24

Öğretmen ilgili kutucuğu işaretler.

Geliştirilmeli (0-8)

İyi (9-14)

Çok İyi (15-20)

Mükemmel (21-24)



Hazırlayan: .....

**Bu bölüme sınıfınızın ilgili kazanıma yönelik genel durumuna ilişkin gözlem ve izlenimlerinizi, öğrencilerinizin bu kazanımla ilgili öğrenme eksikliklerini ve bu eksikliklerin giderilmesi amacıyla yaptığınız/yapmayı planladığınız faaliyetleri not edebilirsiniz.**

No	Adı - Soyadı	Toplam Puan	Değerlendirme
1			
2			
3			
4			
5			
6			
7			
8			
9			
10			
11			
12			
13			
14			
15			
16			
17			
18			
19			
20			
21			
22			
23			
24			
25			
26			
27			
28			
29			
30			
31			
32			
33			
34			
35			

**Hazırlayan:** ..... ..